

PRV2 - PÍSOMNÁ PRÁCA – 1. štvrťrok

Meno a priezvisko: Body: Hodnotenie:

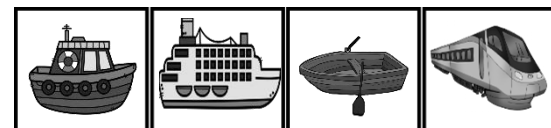

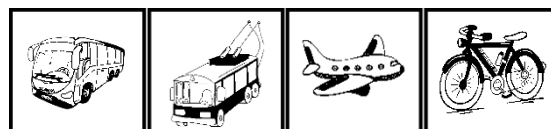
1. Spoj pomenovanie s obrázkom :

PAMÄTIHODNOSŤ

PRÍRODNÝ JAV



2. Prezri si obrázky. Preškrtni, ktorý obrázok do radu nepatrí. Spoj.



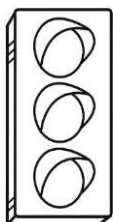
VZDUŠNÁ

VODNÁ

POZEMNÁ

3. Čítaj. Dopíš slová do viet :

- Svetelná signalizácia, ktorá riadi cestnú premávku na križovatke, sa volá S
- Miesto na ceste vyznačené bielymi pruhmi, slúžiace chodcom, je P..... pre



- Označenia, na ktorých sú zobrazené zákazy, príkazy a informácie pre vodičov a chodcov, sa volajú


D..... Z.....

- Zakreslenie nejakej časti územia alebo budov pri pohľade zhora sa volá P.....



- Krajinu môžu tvoriť,,

4. Spoj pomenovanie dopravnej značky s obrázkom :



Chodník pre
cyklistov

Zákaz vjazdu

Daj prednosť
v jazde

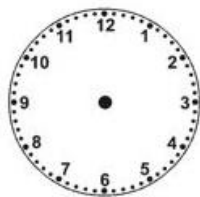
Hlavná
cesta

5. Čítaj s porozumením. Zakrúžkuj správnu možnosť.

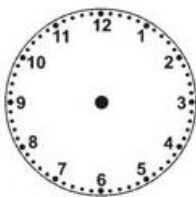
- Naša krajina sa volá **Slovinská republika** - **Slovenská republika**.
- Hymna SR sa volá **Nad Tatrou sa blýska** - **Nad Fatrou sa stíška** .
 - Medzi štátne symboly patrí
pečať - **vlajka** - **žezlo** - **hymna** - **znak** - **prezident** - **hrad** .
 - Na našej vlajke idú farby zhora dole v poradí
modrá, červená, biela - **biela, modrá červená** - **biela, modrá, zelená**
- Naša krajina vznikla **1. januára 1993** - **1. septembra 1993**

6. Čítaj s porozumením. Zakrúžkuj správnu možnosť.


- Meradlom **ČASU** sú **H** _____. Jednotkou času je **H** _____.
- Menšie jednotky času sú **M** _____ a **S** _____ .
 - Kalendárny rok má **12 mesiacov** - **10 mesiacov**.
- Priestupný rok je raz za **2 – 3 – 4 roky** a má **365 – 366 dní**.
- ROK - 5.mesiac, 11. mesiac



09 : 00



15 : 00



:



:

7. Farebne PRIRAĎ.



putá



prilba



rúško

HASIČI

ZDRAVOTNÍ
ZÁCHRANÁRI

POLICAJTI

155

158

150



Tiesňová linka – spoločné číslo na záchranne zložky je _____ .